

Олимпиада по экономике для учащихся 11-ого класса 2.03.2022

ЗАКЛЮЧИТЕЛЬНЫЙ ТУР. РЕШЕБНИК

Каждая задача оценивается из 20 баллов, всего за тур 100 баллов.

Задача 1. Пироги Бабушки Яги

Бабушка Яга решила испечь два вида пирогов с ягодой: открытые и закрытые, а затем выгодно продать их лесным жителям. Для производства пирогов ей нужны яйца, мука, вода и ягода. Для закрытого пирога Бабушка смешивает 4 стакана муки, 2 стакана воды и 1 яйцо. В начинку идет 1 стакан ягоды. В открытый пирог Яга кладет 2 стакана ягоды, а для теста смешивает 1 стакан муки, 1 стакан воды и 1 яйцо.

Товарищи Яги решили помочь ей и доставить необходимые ингредиенты. Гуси-лебеди привезли ей 19 яиц. Леший принес большое лукошко, в который помещается 34 стаканов ягод. Водяной принес 2 ведра воды, в каждое ведро помещается 14 стаканов воды. Наконец, внук, пионер Иван, принес любимой Бабушке 2 мешка муки, в каждом по 26 стаканов.

Закрытые пироги Яга продает по 10 тугриков. Но больше лесным жителям нравятся открытые пироги, содержащие больше ягод, поэтому они продаются по 15 тугриков.

А) Определите, сколько пирогов продаст Бабушка, и какую максимальную выручку она получит при продаже по указанным ценам. (10 баллов)

Б) К Яге обратился Горыныч с просьбой поставить ему 10 закрытых пирогов. Он готов заплатить дороже рыночной цены. Какую цену стоит назвать Горынычу, чтобы Бабушка согласилась продать эти пироги? (5 баллов)

В) Царь Горох издал указ, запрещающий любую эксклюзивную торговлю, поэтому Бабушка Яга не согласится на любую цену, отличную от рыночной. Но она будет готова продать нужное количество закрытых пирогов Горынычу, если рыночная цена на них изменится соответствующим образом. Определите, как должна измениться цена на закрытый пирог (при неизменности цены открытого пирога), чтобы Яга произвела и продала соответствующее количество пирогов. Какую выручку при этом получит Яга. (5 баллов)

Решение

А) Первоначально составляем задачу максимизации выручки. Пусть x – количество закрытых пирогов, y – количество открытых пирогов. В скобках указаны коэффициенты наклона соответствующих линий.

$$10x + 15y \rightarrow \max \text{ (целевая функция – выручка } k_{цф} = -2/3 = -0,67)$$

$$4x + y \leq 52 \text{ (1 – мука } k_1 = -4)$$

$$2x + y \leq 28 \text{ (2 – вода } k_2 = -2)$$

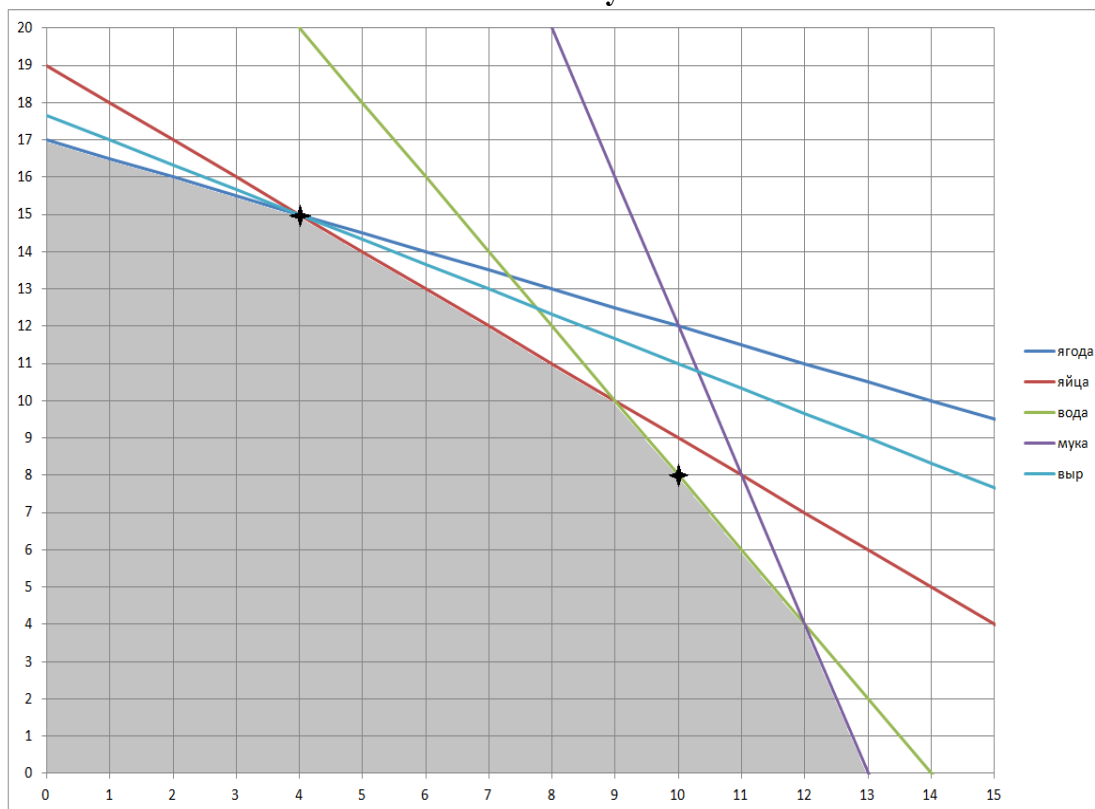
$$x + y \leq 19 \text{ (3 – яйца } k_3 = -1)$$

$$x + 2y \leq 34 \text{ (4 – ягода } k_4 = -1/2 = -0,5)$$

$$x \geq 0, y \geq 0$$

Все эти неравенства образуют «множество достижимых объемов производства», изображенное на следующей картинке (по оси абсцисс – количество закрытых пирогов, по оси ординат – количество открытых пирогов). Точки перегиба имеют координаты (сверху вниз): (0; 17), (4; 15), (9; 10), (12; 4), (13; 0).

XXIX Международный экономический фестиваль школьников «Сибиряда. Шаг в мечту»



Максимизация выручки означает, что линия выручки ($TR = 10x + 15y$) должна пройти как можно выше и правее, и в то же время «касаясь» полученного множества.

Оптимумом здесь будет точка (4; 15) – 4 закрытых пирога и 15 открытых пирогов – точка на пересечении линий (ягоды) и (яиц). То, что точка является optimumом, **математически** подтверждается наклоном рассматриваемых линий:

наклон (муки) в уравнении $y = kx + b$ составит -4 ;

наклон (воды) равен -2 ;

наклон (яиц) равен -1 ;

наклон (ягоды) равен $-0,5$;

наклон (выручки) равен $-0,67$ (находится между наклонами линий (яиц) и (ягоды):

$-1 < -0,67 < -0,5$), выручка в данной точке составит $10 \cdot 4 + 15 \cdot 15 = 265$ тугриков.

Оптимальную точку можно было также получить «методом перебора»: в подобных задачах оптимальным решением является одна или несколько точек перегиба, поэтому достаточно посчитать выручку в каждой из таких точек и выбрать точку с максимальной выручкой.

Другой допустимый здесь «метод перебора» заключается в следующем. Конечно, поставленная математическая задача предполагает возможность получения не целых значений, но, исходя их условия, можно сделать правдоподобное предположение о целочисленности количеств пирогов. Тогда можно было определить все максимально возможные объемы производств, рассчитать выручку и выбрать оптимальную точку.

Критерии оценивания:

Максимум (10 баллов) выставляется при наличии полного обоснованного ответа по выбору оптимальной точки.

За выполнение отдельных «шагов» решения ставились:

- КПВ – 3 балла (если были указаны только граничные точки – 1 балл);

- Координаты оптимальной точки (с расчетом) – 2 балла;

- Обоснование оптимальности точки – 3 балла;

- Вычисление выручки – 2 балла (но только для допустимой точки! если точка не допустима, то соответствующую ей выручку фирма не получит).

Если при решении методом перебора рассмотрены не все варианты, но указана «тенденция» изменения выручки, которая могла бы указать на оптимальную точку (при этом не приведено полного обоснования, что, например, далее выручка будет только снижаться) – 5 из 10 баллов.

XXIX Международный экономический фестиваль школьников «Сибиряда. Шаг в мечту»

Если при решении методом перебора рассмотрены не все варианты, не указана «тенденция» изменения выручки и нет никакого обоснования – 3 из 10 баллов.

Б) Здесь полным ответом считается не только указание конкретной точки и цены, но и обоснование, что именно указанная точка оптимальна!

Чтобы Яга согласилась на эту эксклюзивную продажу, ее выручка в новой ситуации должна быть не ниже старой (265 тугриков).

Чтобы продать 10 пирогов Горынычу, Бабушке нужно произвести **не менее** 10 закрытых пирогов. Получаемые точки: (10;8), (11;6), (12;4) и (13;0). Из указанного количества закрытых пирогов 10 пирогов будет продано по цене, определенной Горынычем., остальное – по старой рыночной цене.

Выбор оптимальной точки можно осуществить как минимум двумя способами:

1 способ: перебрать все указанные точки (посчитать выручку и определить минимальную цену, которую нужно предложить Горынычу) и выбрать ту, в которой Горынычу придется заплатить меньше всего.

Получаем:

$$TR1(10;8) = 10 \cdot P_3 + 8 \cdot 15 \geq 265$$

$$P_3 \geq 14,5$$

$$TR2(11;6) = 10 \cdot P_3 + 1 \cdot 10 + 6 \cdot 15 \geq 265$$

$$P_3 \geq 16,5$$

$$TR3(12;4) = 10 \cdot P_3 + 2 \cdot 10 + 4 \cdot 15 \geq 265$$

$$P_3 \geq 18,5$$

$$TR4(13;0) = 10 \cdot P_3 + 3 \cdot 10 \geq 265$$

$$P_3 \geq 23,5$$

Таким образом, чтобы получить желаемое, Горынычу нужно предложить цену не ниже 14,5 тугриков.

2 способ: для Горыныча создать запрашиваемые им 10 закрытых пирогов, а на оставшихся ресурсах решить снова оптимизационную задачу Бабушки Яги.

Получится, что, произведя 10 закрытых пирогов Горынычу, далее оптимальным рыночным поведением Бабушки Яги будет направление всех оставшихся ресурсов на производство 8 открытых пирогов. Отсюда из неравенства и определяется цена Горыныча:

$$TR(10;8) = 10 \cdot P_3 + 8 \cdot 15 \geq 265, P_3 \geq 14,5$$

Критерии оценивания:

Полное рассуждение (с указанием, что Бабушка может производить и больше 10 закрытых пирогов, но это ей не выгодно) – 5 баллов.

Неполное рассуждение (Бабушка производит ровно 10 закрытых пирогов, нет указания – почему именно эта точка) – 3 балла.

Если при расчете бралась достижимая, но при этом не оптимальная точка, то ставилось 2 балла.

Если при расчете бралась недостижимая (по ресурсам) точка, то правильной общей логике вычисления ставился 1 балл.

В) Аналогично здесь полным ответом считается не только указание конкретной точки и цены, но и обоснование, что именно указанная точка оптимальна!

Кроме того, в данных условиях задачи использование предыдущих значений выручки для вычисления цены является некорректным: даже, если при новых ценах выручка Бабушки окажется ниже, чем было, все равно вернуться к этой «старой» выручке она не сможет, поскольку цены на рынке изменились!

Ответ на вопрос этого пункта следует из следующего рассуждения: чтобы, продавая пироги по рыночным ценам, удовлетворить просьбу Горыныча Яга должна получать максимальную выручку при производстве **не менее** 10 закрытых пирогов.

Опять рассматриваем точки: (10;8), (11;6), (12;4) и (13;0). Первая, вторая и третья точки лежат на линии (2 – вода). Третья и четвертая точки лежат на линии (1 – мука). Чтобы эти точки могли

XXIX Международный экономический фестиваль школьников «Сибиряда. Шаг в мечту»

стать оптимальными, наклон новой линии выручки должен стать не меньшим (по модулю), чем наклон линии (2 – вода). В частности:

- точки (10;8), (11;6), (12;4) будут оптимальными, если наклон линии выручки будет равен (по модулю) 2;
- точка (12;4) будет оптимальной при наклоне линии выручки от 2 до 4;
- точки (12;4) и (13;0) будут оптимальной при наклоне линии выручки равном 4;
- точка (13;0) будет оптимальной при наклоне линии выручки свыше 4.

Итак, по условию цена открытых пирогов не меняется, наклон должен быть больше либо равным 2 (по модулю). Тогда получаем $P_3/P_0 = P_3/15 \geq 2$.

Отсюда для оптимальности новой точки цена на закрытый пирог должна составить не меньшей 30: $P_3 \geq 30$ тугриков (увеличиться в 3 раза или на 200%).

При цене 30 тугриков новая выручка составит $30 \cdot 10 + 15 \cdot 8 = 420$ тугриков.

Критерии оценивания:

Полное рассуждение (с указанием, что Бабушка может производить и больше 10 закрытых пирогов, все будет зависеть от соотношения цен) – 4 балла.

Неполное рассуждение (вычисление цены в случае, если Бабушка производит ровно 10 закрытых пирогов, нет указания – почему именно эта точка) – 3 балла.

Расчет выручки при новой цене – 1 балл.

При вычислении цены на основе любого сравнения с «предыдущей» выручкой ставилось 0 баллов.

Задача 2. Кто должен платить налог?

Спрос и предложение на рынке товара Z в некотором государстве описываются линейными функциями. Когда рынок находится в равновесии, то равновесная цена товара Z оказывается равна 140 тугриков за штуку, а равновесный объем составляет 80 тысяч штук. Также известно, что в точке равновесия коэффициент ценовой эластичности спроса равен (-3,5).

Для пополнения казны на заседании совета министров было предложено ввести налог, связанный с куплей-продажей товара Z. Министр А предложил возложить обязанности уплаты налога на покупателей – после того, как покупатель приобретет товар на рынке, он должен заплатить в казну X % от покупной цены этого товара, т.е. ставка налога должна составить X %. В этом случае максимально можно собрать 2,4 млн. тугриков.

Однако при обсуждении порядка уплаты налога у Министра Б возникли сомнения, что этот налог легко удастся собрать с покупателей и предложил иной порядок взимания налога – пусть налог платят продавцы, так как их проще контролировать – после того, как продавец продаст товар, он должен заплатить Y % от его продажной цены, т.е. ставка налога должна составить Y%. В этом случае удастся собрать такую же сумму налога.

А) Определите значение ставок налога с покупателей (X %) и с продавцов (Y %). (15 баллов)

Б) Рассчитайте, каким окажется объем продаж товара Z, если будет принято предложение Министра А, и каким будет объем продаж, если будет принято предложение Министра Б. (5 баллов).

Решение.

А) Так как известны параметры точки равновесия и коэффициент ценовой эластичности спроса, то можно восстановить функцию спроса. Получаем $Q = 360 - 2P$, где Q – количество товара Z, в тысячах штук, а P – цена штуки товара Z, в тугриках.

Максимальную сумму налога можно собрать, если установить такой налог, который обеспечит объем продаж равный половине равновесного объема (в случае линейных функция спроса и предложения). Значит, объем продаж при данном налоге составит $80/2 = 40$ тысяч штук товара Z. Теперь можно рассчитать величину налога в тугриках с единицы товара Z. $2400/40 = 60$ тугриков.

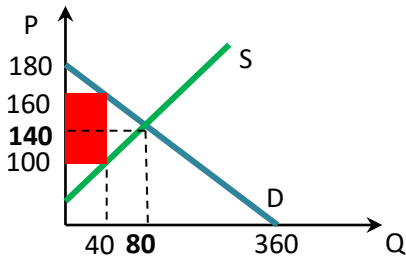
XXIX Международный экономический фестиваль школьников «Сибиряда. Шаг в мечту»

Если налог будут платить продавцы, то они будут готовы продать его по цене, которую мы найдем из функции спроса, подставив в нее значение объема продаж $40=360-2P$. Отсюда находим, что $P=160$. А значит ставка налога для продавцов ($Y\%$) будет определяться соотношением $(60/160=0,375)$ и составит $37,5\%$.

Если налог будут платить покупатели, то на рынке товар будет продаваться по цене $160-60=100$. Ставка налога для покупателей ($X\%$) будет определяться соотношением $(60/100=0,6)$ и составит 60% .

Б) Объем продаж будет одинаковым равным 40 тысяч штук товара Z.

График-иллюстрация к решению.



Критерии

Пункт А	15 баллов
Пункт Б	5 баллов

Задача 3. Неравенство в Лукошкино.

В столице сказочного царства, городе Лукошкино, проживают 100 сказочных жителей. Часть из них – 60 «лукошкинцев» – имеют доход по 4 тыс. тугриков на жителя, оставшиеся получают доход по 9 тыс. тугриков.

А) Определите уровень неравенства в Лукошкино: постройте кривую Лоренца и посчитайте индекс Джини. (5 баллов)

Б) Все «лукошкинцы» очень любят участвовать в олимпиадах. По результатам Вселукошкинской экономической олимпиады 25 % жителей в каждой группе оказались победителями. Царь Горох, правитель Лукошкина, собрал бояр, чтобы они придумали предложение по поощрению победителей. Сообразительный боярин Мышкин предложил собрать со всех «богатых» граждан Лукошкина налог в треть их дохода, который затем раздать поровну всем победителям. В ответ на это паникёр-писарь, дьяк Филимон, сказал, что это может ухудшить уровень неравенства в Лукошкино. Любимая советчица царя, Бабушка Яга, присутствующая на том заседании, быстро всё сосчитав, сообщила, что уровень неравенства не изменится. Проведите расчеты и подтвердите или опровергните заявление Бабушки Яги. (15 баллов)

Решение

А) Согласно условию в Лукошкино проживают две группы жителей: «бедные» и «богатые»: «бедных» – 60%, «богатых» – 40%.

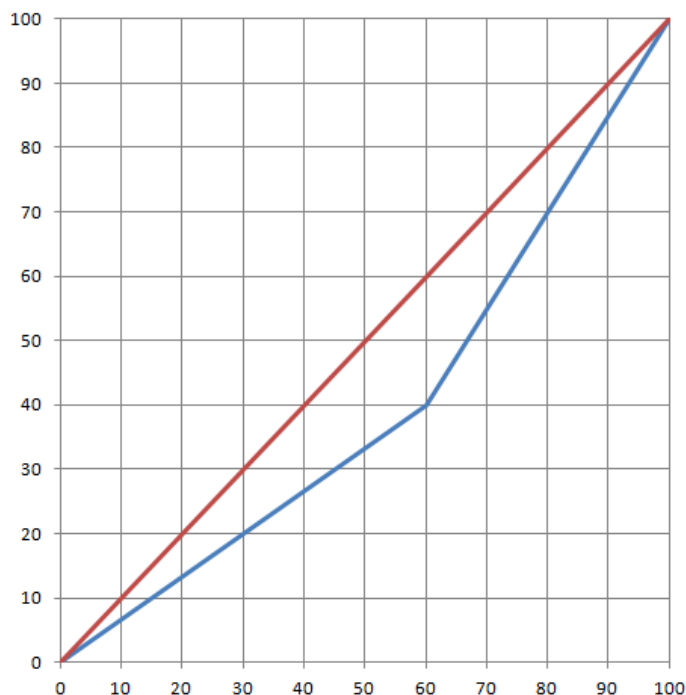
Суммарный доход «бедных» составляет $60 \cdot 4 = 240$ тыс. тугриков.

Суммарный доход «богатых» составляет $40 \cdot 9 = 360$ тыс. тугриков.

Всего доход жителей Лукошкино составляет 600 тыс. тугриков. Значит доля дохода «бедных» – 40%, «богатых» – 60%. Значение коэффициента Джини составляет $0,6 - 0,4 = 0,2$.

Кривая Лоренца:

XXIX Международный экономический фестиваль школьников «Сибиряда. Шаг в мечту»



б) Победителей «бедной» группы – 15 жителей (25% от 60), их доход составляет – 60 тыс. тугриков. Победителей «богатой» группы – 10 жителей, их доход составляет 90 тыс. тугриков от всего дохода.

Группы		Жителей	Доход	Налог	Субсидия	Доход группы
			(1)	(2)	(3)	(1)–(2)+(3)
1 (60%)	Победители	15	60 тыс.	–	$15/(15+10)*120=72$	132 тыс.
	Бедные	45	180 тыс.	–	–	180 тыс.
2 (40%)	Победители	10	90 тыс.	$90*1/3=30$	$10/(15+10)*120=48$	108 тыс.
	Богатые	30	270 тыс.	$270*1/3=90$	–	180 тыс.
Сумма		100	600 тыс.	120 тыс.	120 тыс.	

Получается, что доходные группы изменятся. Определим их порядок, долю дохода, рассчитав, сколько тугриков приходится на каждого

Чтобы посчитать новый коэффициент Джини нужно перераспределить группы – упорядочить по возрастанию дохода на члена группы:

	Группа	Жителей	Доход группы	Доход на члена группы	Порядок групп
		(1)	(2)	(2)/(1)	
1 (60%)	«Бедные» победители	15	132 тыс.	8,8 тыс.	3
	«Бедные»	45	180 тыс.	4 тыс.	1
2 (40%)	«Богатые» победители	10	108 тыс.	10,8 тыс.	4
	«Богатые»	30	180 тыс.	6 тыс.	2

Получаем

	Доля населения	Доля их дохода	Доля населения накопленным итогом	Доля их дохода накопленным итогом
«Бедные»	45%	$180/600=30\%$	45%	30%
«Богатые»	30%	$180/600=30\%$	75%	60%
«Бедные» победители	15%	$132/600=22\%$	90%	82%
«Богатые» победители	10%	$108/600=18\%$	100%	100%

Получаем

XXIX Международный экономический фестиваль школьников «Сибиряда. Шаг в мечту»

$$K_{Дж} = \frac{0,5 - \left(\frac{0,45 * 0,3}{2} + \frac{0,3 * (0,3 + 0,6)}{2} + \frac{0,15 * (0,6 + 0,82)}{2} + \frac{0,1 * (0,82 + 1)}{2} \right)}{0,5} = 0,2.$$

Таким образом, Бабушка Яга оказалась права: перераспределение доходов не изменит уровень неравенства в Лукошкино после поощрения победителей.

Критерии

Пункт а)	5 баллов
Пункт б)	15 баллов, в том числе: 4 балла за расчет долей населения по группам нарастающим итогом, 4 балла за расчет долей дохода по группам нарастающим итогом, 5 баллов за расчет нового значения индекса Джини, 2 балла за вывод о том оказалась ли права Бабушка Яга.

Задача 4. Орешки для Бельчонок

Ежедневно Бельчонок ходит гулять к волшебному озеру. Туда можно добраться по дороге через лес или по дороге через поле. По какой бы дороге Бельчонок ни шел, он всегда встречает одну из беличьих фей – розовую, голубую или сиреневую. И они всегда дарят Бельчонок орешки, которые он очень сильно любит. Однако количество орешков, которые ему дарят феи, зависит от того, по какой дороге он пойдет, и какая из фей в этот день ему встретится.

Если Бельчонок пойдет через лес и встретит розовую фею, то она дает ему 10 орешков, если встретит голубую фею, то она дает ему 20 орешков, а если сиреневую, то получает от нее 35 орешков. Если же Бельчонок пойдет через поле, то, встретив розовую фею, получает от нее 30 орешков, а если встретит голубую фею, то она дарит ему 15 орешков. Сиреневая же фея на этой дороге всегда дарит ему 25 орешков.

А) Какую дорогу должен выбирать Бельчонок, чтобы всегда иметь гарантированный результат, т.е. такое количество орешков, не меньше которого он точно ежедневно будет получать от фей. Чему будет равен этот гарантированный результат? (5 баллов)

Б) Мама Бельчонок дала ему совет, как можно увеличить количество орешков, получаемое от фей, т.е. как увеличить гарантированный среднеожидаемый результат. Она даже подарила ему коробочку с красными и синими шариками общим числом 10 штук, которая, как она сказала, может ему в этом помочь. Рассчитайте, на какой гарантированный среднеожидаемый результат может рассчитывать Бельчонок, если воспользуется советом мамы. А также объясните, как коробочка, которую ему подарила мама, поможет получить этот результат. (15 баллов)

Решение

Сведем в таблицу информацию об орешках, которые дают феи:

	Розовая фея	Голубая фея	Сиреневая фея
Дорога через лес	10	20	35
Дорога через поле	30	15	25

А) Если Бельчонок пойдет через лес, то получит не менее 10 орешков, а если через поле — не менее 15 орешков. Следовательно, для максимизации гарантированного результата надо идти через поле, гарантированный результат в этом случае — 15.

Б) Коробка с шариками — генератор случайных событий. Бельчонок может положиться на случай и решить, куда пойти, в зависимости от цвета шара, который он наугад вытянет из коробки. Оказывается, это позволяет увеличить (среднеожидаемый) гарантированный результат.

Пусть p — вероятность вытянуть синий шар (она равна количеству синих шаров в коробке, деленному на 10). Предположим, что бельчонок идет через лес, вытянув синий шар, и через

XXIX Международный экономический фестиваль школьников «Сибиряда. Шаг в мечту»

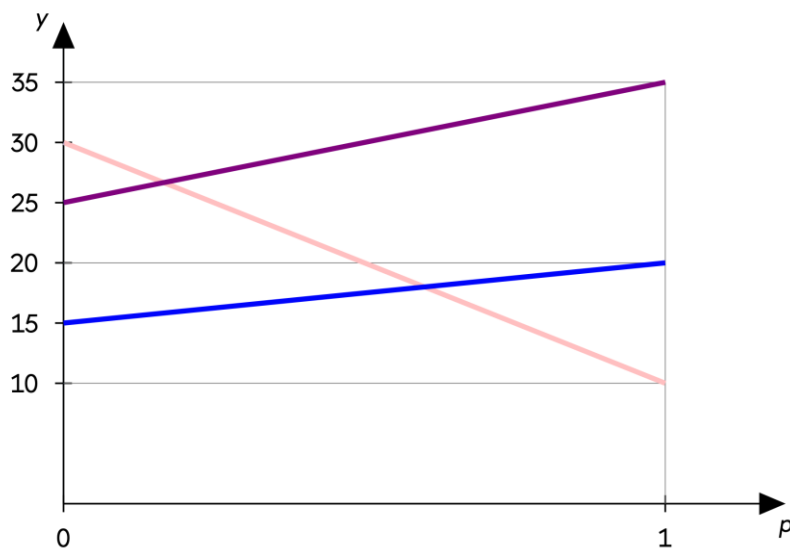
поле, если вытянет красный шар. Тогда можно посчитать среднее ожидаемое количество орешков в зависимости от встреченной феи:

$$\text{Розовая фея: } 10p + 30(1 - p) = 30 - 20p$$

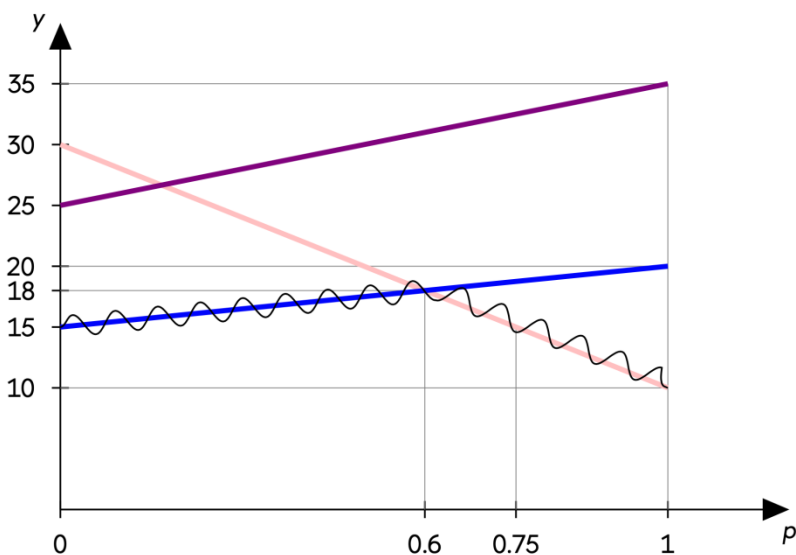
$$\text{Голубая фея: } 20p + 15(1 - p) = 15 + 5p$$

$$\text{Сиреневая фея: } 35p + 25(1 - p) = 25 + 10p$$

Построим графики всех трех функций:



Поскольку Бельчонок ориентируется на худший случай, нас интересует нижний контур всех трех графиков (выделен волнистой линией):



Если $p \in [0, 0.6]$, то худший случай — голубая фея, выигрыш $15 + 5p$. Если $p \in [0.6, 1]$, то худший случай — розовая фея, выигрыш $30 - 20p$. Как видно, при $p \in (0, 0.75]$ (то есть если синих шаров от 1 до 7) средний гарантированный выигрыш выше 15 — результата пункта А). Если же синих шаров 8 или 9, то можно при их вытягивании идти через поле, а не через лес (это то же самое, что $p = 0.2$ или $p = 0.1$), и средний гарантированный выигрыш тоже будет больше 15.

Для расчета среднего гарантированного выигрыша, который может получить Бельчонок, необходимо определить, когда при вытягивании синего шара нужно идти через поле, а когда через лес. Посчитаем средние ожидаемые гарантированные выигрыши в обоих случаях. Если Бельчонок идет через лес, вытягивая синий шар, то его гарантированный выигрыш будет равен минимуму из $(15 + 5p)$ и $(30 - 20p)$. А если он идет через поле, то минимуму из $(15 + 5(1 - p))$ и $(30 - 20(1 - p))$ — результат подстановки $(1 - p)$ вместо p .

XXIX Международный экономический фестиваль школьников «Сибиряда. Шаг в мечту»

Синих шаров	Лес	Поле
1	15,5	12
2	16	14
3	16,5	16
4	17	18
5	17,5	17,5
6	18	17
7	16	16,5
8	14	16
9	12	15,5

Жирным шрифтом выделен гарантированный выигрыш при оптимальном решении (наибольший из двух).

Примечание. Бельчонок может сгенерировать другие вероятности, заранее вынув из коробки какое-то количество шариков. Например, если синих шариков изначально 4, то заранее вынув один синий и затем вытягивая наугад, можно получить $p = 1/3$. Здесь мы опускаем такие варианты, однако желающие могут вычислить оптимальное решение Бельчонка в общем случае для всех возможных вероятностей как функцию $\max(\min(15 + 5p; 30 - 20p); \min(15 + 5(1 - p); 30 - 20(1 - p)))$. Окажется, что самый высокий теоретически возможный гарантированный выигрыш 18 достигается, если Бельчонок идет в лес с вероятностью 0,6.

Альтернативный вариант решения

А) Составим матрицу, в которой покажем все возможные исходы встречи Бельчонка с феями.

	Розовая фея	Голубая фея	Сиреневая фея
Дорога через лес	10	20	35
Дорога через поле	30	15	25

Находим минимум по строкам и из них берем максимум. Гарантированный результат – 15 орешков. Его Бельчонок получит, если будет ходить к озеру через поле.

Б) Пусть x_1 и x_2 – это вероятности с которыми Бельчонок выбирает дорогу к озеру через лес или поле соответственно, а Y – это искомый среднеожидаемый результат (среднеожидаемое количество орешков). Ясно, что $(x_1+x_2) = 1$

Если Бельчонку суждено встретиться с розовой феей, то его среднеожидаемый результат составит $(10 \cdot x_1 + 30 \cdot x_2)$.

Если Бельчонку суждено встретиться с голубой феей, то его среднеожидаемый результат составит $(20 \cdot x_1 + 15 \cdot x_2)$.

Если Бельчонку суждено встретиться с сиреневой феей, то его среднеожидаемый результат составит $(35 \cdot x_1 + 25 \cdot x_2)$.

И во всех случаях этот среднеожидаемый результат должен быть не меньше, чем искомый гарантированный среднеожидаемый результат, который мы обозначили через Y . И значение Y надо постараться сделать наибольшим.

Фактически мы должны найти такие x_1 , x_2 и Y , для которых:

$$10 \cdot x_1 + 30 \cdot x_2 \geq Y$$

$$20 \cdot x_1 + 15 \cdot x_2 \geq Y$$

$$35 \cdot x_1 + 25 \cdot x_2 \geq Y$$

$$x_1 + x_2 = 1$$

$$x_1 \geq 0, x_2 \geq 0$$

XXIX Международный экономический фестиваль школьников «Сибиряда. Шаг в мечту»

$Y \rightarrow \max$

Сделав подстановку $x_1=1-x_2$, мы получим систему неравенств с двумя переменными. Графическое решение позволит найти ответ $x_1=0,6$, $x_2=0,4$, $Y=18$.

В коробочке должно находиться, например, 6 красных шариков и 4 синих шариков. Каждый раз перед тем, как отправится на прогулку, Бельчонок должен случайным образом вынимать один шарик из коробочки и если это будет красный шарик, то идти к озеру через лес, а если это будет синий шарик, то идти к озеру через поле. Обязательное условие – каждый раз следует ВОЗВРАЩАТЬ шарик в коробочку.

Критерии

Пункт А	5 баллов
Пункт Б	15 баллов

Задача 5. «Эх, дороги...»

В королевстве Роз прекрасные цветы, а вот дороги – не очень. Тропинки, можно сказать, а не дороги. Между тем все жители королевства – и селяне, и горожане, и странствующие рыцари – хотят хороших дорог. А вот строить их никто из них не хочет, ведь это – общественное благо. Они обратились к королю:

- Мы просим Ваше Величество о прекрасных дорогах для нашей прекрасной страны.
- Красиво! – воскликнул король. И продолжил задумчиво: - Знаю я тут специалистов в королевстве Моторхед, но удовольствие не из дешевых. Дело непростое... А что на это скажет придворная консалтинговая фирма «Петал&Рут»?

Консультанты не только выяснили, что километр дороги обойдется королевству 270 флоринов, но и максимальную готовность селян, горожан и рыцарей платить за дороги в зависимости от километража: $МГПс=145-X$; $МГПг=70-X$; $МГПр=115-X$, где X – количество километров построенных дорог.

С учетом общей выгоды они рекомендовали королю заказать X км дорог строителям из Моторхед. Король согласился с консультантами, и, не мудрствуя лукаво, повелел расходы на дороги поделить поровну между селянами, горожанами и рыцарями, кои и следовало собрать казначею.

Ну что сказать... Через год в королевстве Роз дороги были – загляденье.

А. Сколько километров дорог было построено в королевстве Роз? 12 баллов

Б. Сколько флоринов на км построенных дорог заплатили селяне, горожане и рыцари? 3 балла

В. Король предложил обустроить площадку для рыцарских турниров, что эквивалентно двум километрам дороги дополнительно. Принять решение, по его мнению, стоило на основе голосования 3-х выборных представителей каждой категории жителей королевства. Каким будет исход голосования? Построят ли площадку для турниров? 5 баллов

Решение

А. Расходы на строительство 1 км дорог представляют собой предельные издержки строительства дорог: $МС=270$ флоринов за км.

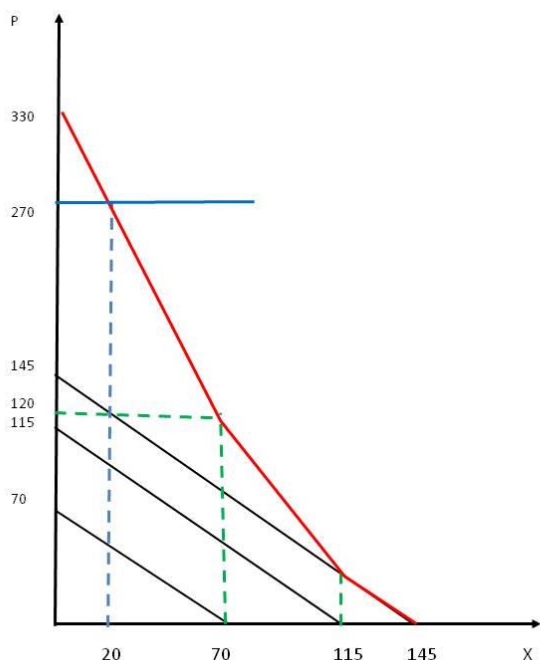
Километраж дорог консультанты определяли с учетом общей выгоды, т.е. количество километров построенных дорог определяется равенством предельных издержек спросу на дороги в королевстве Роз.

Значит, нужно определить спрос на дороги. Максимальная готовность заплатить фактически отражает спрос каждой категории жителей на дороги. Для общественного блага он определяется вертикальным суммированием индивидуальных функций спроса: если объем общественного блага равен X , то в таком количестве его потребляют все категории жителей королевства.

$$P_D(X) = P_C(X) + P_G(X) + P_P(X)$$

XXIX Международный экономический фестиваль школьников «Сибиряда. Шаг в мечту»

$$\begin{cases} 330 - 3X, & X \leq 70 \\ 260 - 2X, & 70 < X \leq 115 \\ 145 - X, & 110 < X \leq 145 \\ 0, & X > 145 \end{cases}$$



$P_D = MC = 270$. Следовательно, $X = 20$ км.

Б. Плата за дороги, взимаемая с жителей королевства, должна покрыть издержки на 1 км. По условию она поровну распределяется между селянами, горожанами и рыцарями: $270/3 = 90$ флоринов за км.

Заметим, что максимальная готовность заплатить за километраж, определенный с точки зрения общественной выгоды, составляет следующие величины по группам населения:

$$MGP_c = 145 - 20 = 125;$$

$$MGP_g = 70 - 20 = 50;$$

$$MGP_r = 115 - 20 = 95.$$

Это означает, что решение короля о распределении платы поровну между группами жителей ставит горожан в крайне невыгодное положение:

требование к оплате превышает их готовность заплатить.

Возможно ли принятие неэффективного распределительного решения в общественной политике? Да. Решение короля о распределении расходов на дороги поровну является административно-командным. Такие решения требуют от регулятора меньше усилий (а в реальности сбор денег в соответствии с МГП может оказаться сложным – достаточно представить ситуацию, когда у нас несколько десятков или даже сотен или тысяч групп потребителей со своими МГП), но в итоге лишь случайно могут привести к достижению цели политики наилучшим образом.

Однако дороги были построены – при распределительной неэффективности принятого механизма их финансирования. Тем не менее, обоснованная критика этого варианта с предложением варианта сбора денег на основе МГП также оценивалась при проверке.

В. Решение о строительстве турнирной площадки эквивалентно строительству 22 км дорог. Это решение принимается по результатам голосования представителя каждой группы жителей (большинством, т.е. 3 или 2 голоса «за»). Для каждой группы нужно понять, превышает ли максимальная готовность заплатить при таком количестве блага плату за километр дорог. Если за 22 км селяне, например готовы платить больше, чем плата, которая с них берется по факту, то они проголосуют «за». И т.д.

Максимальная готовность платить определяется по функции спроса (цена):

$$MGP_c = 145 - 22 = 123 > 90$$

$$MGP_g = 70 - 22 = 48 < 90$$

$$MGP_r = 115 - 22 = 93 > 90$$

Проголосуют 2 «за», 1 – «против». Построят площадку для турниров.

Критерии

А	Определение рекомендованного с учетом общественной выгоды километража дорог, в т.ч.	12
	- определение спроса на общественное благо	6 баллов
	- определение километража построенных дорог	6 баллов
Б	Определение платы за 1 км дорог для каждой	3 балла

XXIX Международный экономический фестиваль школьников «Сибиряда. Шаг в мечту»

	группы жителей	
	- в т.ч. на основе МГП	2 балла
В	Определение результатов голосования по строительству площадки для турниров	5 баллов
	- в т.ч. идея сравнения готовности платить за километр с платой за него как основы для голосования	2 балла